

ばわふるちゃれんじ

□に かずを すうじで かこう。




ねずみ

ふね

ひよこ

へび

かに



17 きゅう
すてっぴ2

なんばんめ

やってみようで 1

ぞうは なんばんめ かな。



まえから ばんめ、うしろから ばんめ

ヒント



- ①まえから じゅんばんに 1, 2, 3と かぞえていこう。
 まえから かぞえて 1ばんめが ねこ 2ばんめが からす
 3ばんめが ぞうだね。
- ②うしろから かぞえると ぞうは なんばんめ かな。
 うしろから かぞえて 1ばんめが ひよこ 2ばんめが へび
 3ばんめが いぬ 4ばんめが ぞうだね。

こたえ まえから 3ばんめ うしろから 4ばんめ

ちゃれんじ 1

ばすは なんばんめ かな。



まえから ばんめ、うしろから ばんめ

やってみようで 2

ひだりから 4ばんめに ○を つけよう。

ひ
だ
り



み
ね


ヒント



ひだりからじゅんばんに
1, 2, 3, 4と かぞえていこう。

ひだりから

ひ
だ
り




み
ね

チャレンジ 2

① ひだりから 3ばんめに ○を つけよう。

ひ
だ
り



み
ね

② みぎから 2ばんめに ○を つけよう。

ひ
だ
り



み
ね

やってみようで 3

ひだりから 4にんに 〇を つけよう。

ひ
だ
り



み
お

ヒント



ひだりから 4にん だから…

ひ
だ
り



み
お

ちやれんじ 3

① ひだりから 3そうに 〇を つけよう。

ひ
だ
り



み
お

② みぎから 2だいに 〇を つけよう。

ひ
だ
り



み
お

③ ひだりから 5ひきに 〇を つけよう。


ひ
だ
り



み
お

ぱわふるちゃれんじ


①したから 3びきに ○を
つけよう。



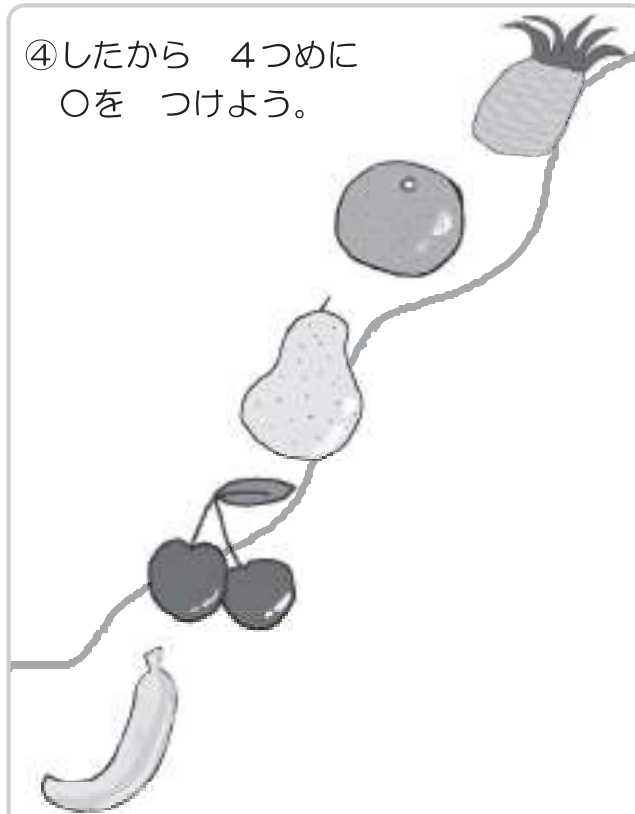
②うえから 2ばんめに ○を
つけよう。



③うえから 2つに
○を つけよう。



④したから 4つめに
○を つけよう。





いくつと いくつ

やってみようで 1 5は いくつと いくつですか。□に かずをかこう。

① 2と

② 1と

ヒント

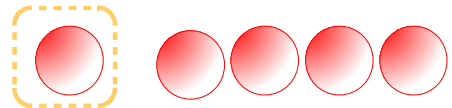
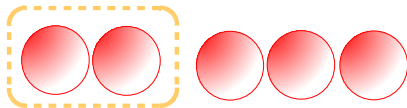


5は いくつと いくつですか。□に かずをかこう。

○などの
ずをかい
てわけて
みよう

① 2と

② 1と



ちゃれんじ 1 いくつと いくつですか。□に かずをかこう。

① 2は いくつと いくつ かな。

1と 

② 3は いくつと いくつ かな。

① 1と ① 3と

