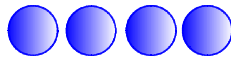


チャレンジ 2

いくつと いくつですか。 □に かずをかこう。

① 4は いくつと いくつかな。

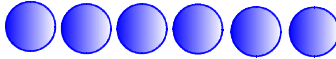


ア 1と

イ 2と

ウ 3と

② 6は いくつと いくつかな。

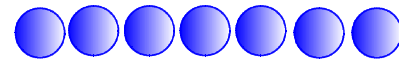


ア 2と

イ 3と

ウ 4と

③ 7は いくつと いくつかな。

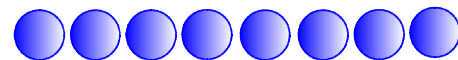


ア 1と

イ 2と

ウ 3と

④ 8は いくつと いくつかな。



ア 2と

イ 4と

ウ 5と

エ 3と

オ 6と

カ 7と

⑤ 9は いくつと いくつかな。



ア 2と

イ 5と

ウ 9と

エ 7と

オ 3と

カ 6と

キ 1と









ク 8と

ケ 4と









⑥ 10は いくつと いくつかな。 

- | | | |
|---------------------------|---------------------------|----------------------------|
| ㊦ 4と <input type="text"/> | ㊩ 3と <input type="text"/> | ㊭ 2と <input type="text"/> |
| ㊧ 7と <input type="text"/> | ㊪ 5と <input type="text"/> | ㊮ 6と <input type="text"/> |
| ㊨ 1と <input type="text"/> | ㊫ 8と <input type="text"/> | ㊯ 10と <input type="text"/> |

ぱわふるちゃれんじ 1 うえと したを —— で つないで 6をつくろう。

			
•	•	•	•
•	•	•	•
			


ぱわふるちゃれんじ 2 うえと したを —— で つないで 9をつくろう。

			
•	•	•	•
•	•	•	•
			

ばわふるちゃれんじ 3

あといくつで 10 になるかな。

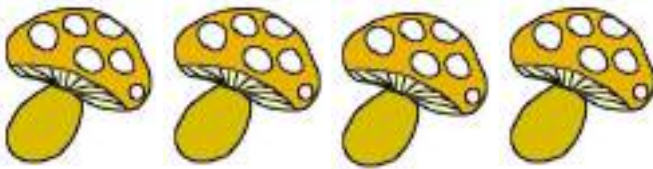
①



②



③



ばわふるちゃれんじ 4

うえと したを ——— で つないで 8 を つくろう。

6

4

5

8

.

.

.

.

.

.

.

.

0

3

2

4



たしざんとひきざん

やってみようで 1 たしざんをしよう。

$$5 + 2$$



●で すをかいたり、おはじきや ぶろっくを うごかしたりして やってみると いいよ。

$$5 + 2 = 7$$

●●●●● と ●● を あわせると？

こたえ 7

チャレンジ 1

① 3 + 1 ② 2 + 2 ③ 5 + 1

④ 4 + 2 ⑤ 1 + 3 ⑥ 3 + 2

⑦ 2 + 3 ⑧ 5 + 2 ⑨ 3 + 3

⑩ 6 + 2 ⑪ 1 + 4 ⑫ 7 + 3

⑬ 4 + 3 ⑭ 9 + 1 ⑮ 8 + 2

チャレンジ 2

① $2 + 4$

② $5 + 5$

③ $3 + 4$

④ $6 + 3$

⑤ $2 + 5$

⑥ $4 + 6$

⑦ $1 + 7$

⑧ $3 + 6$

⑨ $2 + 8$

⑩ $4 + 5$

⑪ $3 + 5$

⑫ $5 + 4$

⑬ $2 + 7$

⑭ $6 + 4$

⑮ $2 + 6$

⑯ $8 + 1$

⑰ $5 + 3$

⑱ $3 + 7$

⑲ $4 + 4$

⑳ $7 + 2$

㉑ $1 + 9$

$$5 - 1$$



●で ずをかいたり、おはじきや ぶろっくを
うごかしたりして やってみると いいよ。

$$5 - 1 = 4$$

● ● ● ● ● → このぶんの 1を へらすと?
こたえ 4

チャレンジ 3

- | | | |
|---------|---------|---------|
| ① 2 - 1 | ② 3 - 2 | ③ 5 - 1 |
| ④ 4 - 2 | ⑤ 5 - 3 | ⑥ 6 - 2 |
| ⑦ 7 - 2 | ⑧ 6 - 1 | ⑨ 4 - 3 |
| ⑩ 6 - 3 | ⑪ 5 - 2 | ⑫ 9 - 1 |
| ⑬ 8 - 2 | ⑭ 7 - 3 | ⑮ 9 - 2 |

チャレンジ 4

① $5 - 4$ ② $7 - 5$ ③ $8 - 4$

④ $9 - 3$ ⑤ $6 - 4$ ⑥ $7 - 6$

⑦ $10 - 1$ ⑧ $8 - 3$ ⑨ $9 - 5$

⑩ $8 - 6$ ⑪ $10 - 2$ ⑫ $9 - 8$


⑬ $10 - 7$ ⑭ $9 - 6$ ⑮ $6 - 5$

⑯ $9 - 4$ ⑰ $8 - 7$ ⑱ $3 - 1$

⑲ $8 - 5$ ⑳ $7 - 4$ ㉑ $9 - 7$

やってみようで 1

ひよこの かずを かぞえよう。



こたえ

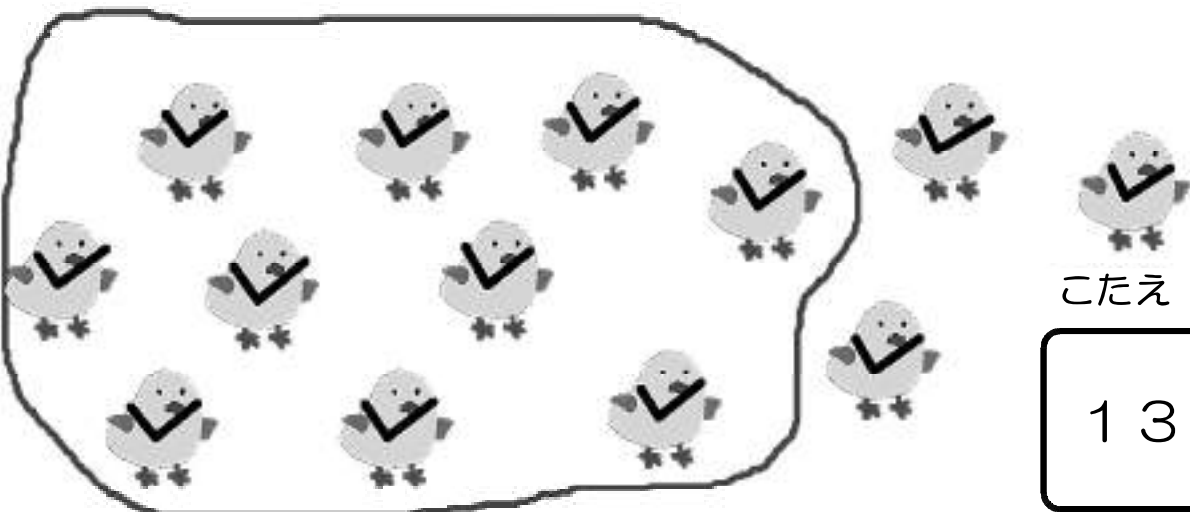
わ

ヒント



かぞえまちがわないように ①～④の じゅんで かぞえると いいよ。

- ① 1つずつ しるしを つけながら かぞえる。
- ② 10かぞえたら せんで かこんで 10の まとまりを つくっておく。
- ③ のこりを 1つずつ しるしを つけながら かぞえる。
- ④ 10の まとまりと のこりの かずを あわせる。



こたえ



13

わ



チャレンジ 1

いくつあるか かぞえよう。

①



②



③

