


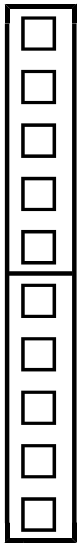
12は 10と



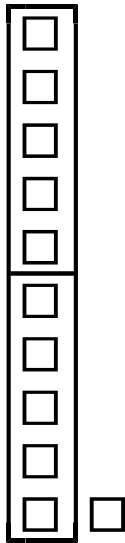
ヒント



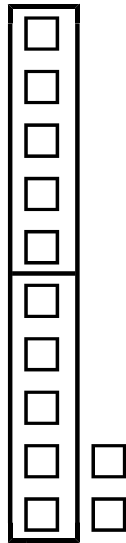
10のまとまりと のこりが いくつと かんがえたら いいよ。



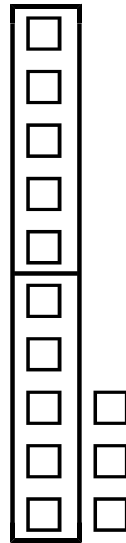
10



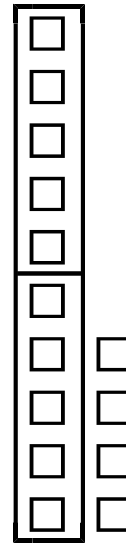
11



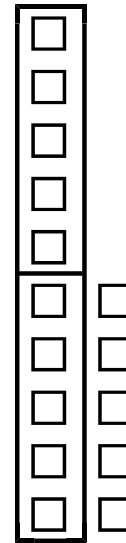
12



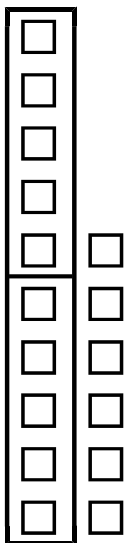
13



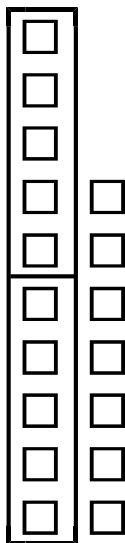
14



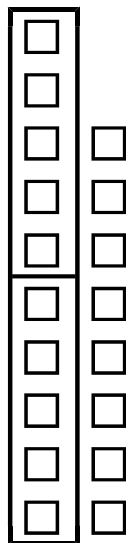
15



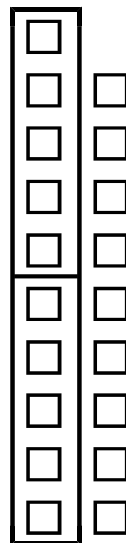
16



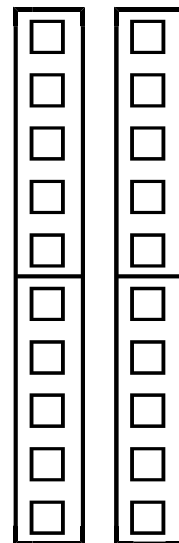
17



18



19



20

こたえ 2

チャレンジ 2

10と いくつか かんがえよう。

- ① 11は 10と ② 13は 10と
- ③ 14は 10と ④ 15は 10と
- ⑤ 16は 10と ⑥ 17は 10と

チャレンジ 3

□に あてはまる かずを かこう。

- ① 19は 10と ② 20は 10と
- ③ 18は 10と ④ 5と 10で
- ⑤ 2と 10で ⑥ 4と 10で
- ⑦ 9と 10で ⑧ 7と 10で
- ⑨ 13は と 3 ⑩ 11は と 1
- ⑪ 16は と 6 ⑫ 20は と 10

やってみようで 3

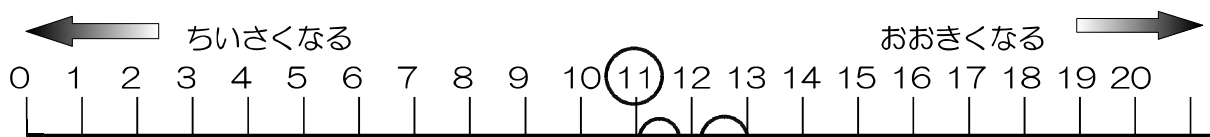
□に あう かずを かんがえよう。

1 1より 2 おおきい かずは

ヒント



みぎに いくと おおきく なって、 ひだりに
いくと ちいさく なるよ。



こたえ 1 3

チャレンジ 4

□に あう かずを かこう。

① 1 2より 3 おおきい かずは

② 1 6より 2 ちいさい かずは

③ 1 3より 7 おおきい かずは

④ 1 8より 5 ちいさい かずは



3つの かずの けいさん

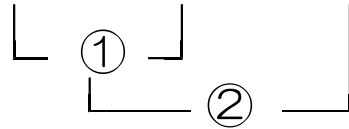
やってみようで 1 3つの かずの たしざんを しよう。

$$3 + 4 + 2$$



ひだりから じゅんに たして いくと いいよ。

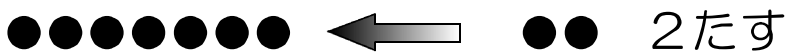
$$3 + 4 + 2 = 9$$



① 3に 4を たして 7



② 7に 2を たして 9



チャレンジ 1

- ① 2 + 4 + 1
- ② 3 + 1 + 2
- ③ 4 + 2 + 3
- ④ 1 + 6 + 3
- ⑤ 2 + 2 + 3
- ⑥ 5 + 1 + 4
- ⑦ 3 + 3 + 2
- ⑧ 6 + 1 + 2
- ⑨ 2 + 5 + 3
- ⑩ 4 + 2 + 4
- ⑪ 5 + 3 + 1
- ⑫ 3 + 4 + 3

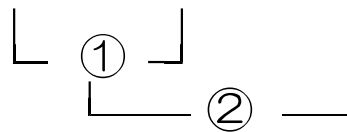
$$15 - 5 - 2$$

ヒント



たしざんと おなじように ひだりから じゅんに
けいさん すると いいよ。

$$15 - 5 - 2 = 8$$



① 15から 5を ひいて 10



② 10から 2を ひいて 8



チャレンジ 2

① $12 - 2 - 3$

② $13 - 3 - 4$

③ $15 - 5 - 2$

④ $4 - 2 - 1$

⑤ $16 - 6 - 5$

⑥ $14 - 4 - 7$

⑦ $18 - 8 - 9$

⑧ $6 - 1 - 3$

⑨ $19 - 9 - 6$

⑩ $17 - 7 - 8$

⑪ $8 - 3 - 2$

⑫ $10 - 1 - 2$

やってみようで 3

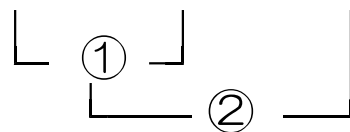
3つの かずの たしざんと ひきざんを しよう。

$$6 + 2 - 3$$

ヒント

たしざんと ひきざんが まじって いても ひだりから じゅんに けいさんすると いいよ。

$$6 + 2 - 3 = 5$$



① 6に 2を たして 8

●●●●●● ← ●● 2たす

② 8から 3を ひいて 5

●●●●● (●●●) → 3ひく

チャレンジ 3

① $8 + 1 - 2$ ② $5 + 2 - 3$ ③ $7 + 3 - 4$

④ $3 + 4 - 5$ ⑤ $9 + 1 - 7$ ⑥ $4 + 6 - 8$

チャレンジ 4

① $4 - 1 + 2$ ② $6 - 2 + 3$ ③ $9 - 5 + 4$

④ $7 - 3 + 5$ ⑤ $5 - 4 + 6$ ⑥ $8 - 7 + 2$

パワフルチャレンジ1

- ① $2+3+5$ ② $1+3+4$ ③ $9-2-4$
④ $10-6-3$ ⑤ $6-3-2$ ⑥ $5+5+3$
⑦ $4+3+2$ ⑧ $10-3-5$ ⑨ $7+2+1$
⑩ $8-4-2$ ⑪ $10-4-3$ ⑫ $6+1+3$

パワフルチャレンジ2

- ① $6+3-2$ ② $3+5-4$ ③ $4-2+3$
④ $6-5+3$ ⑤ $2+8-3$ ⑥ $8-6+7$
⑦ $10-6+4$ ⑧ $9+1-2$ ⑨ $5+3-6$
⑩ $7-4+2$ ⑪ $5+4-8$ ⑫ $10-4+3$



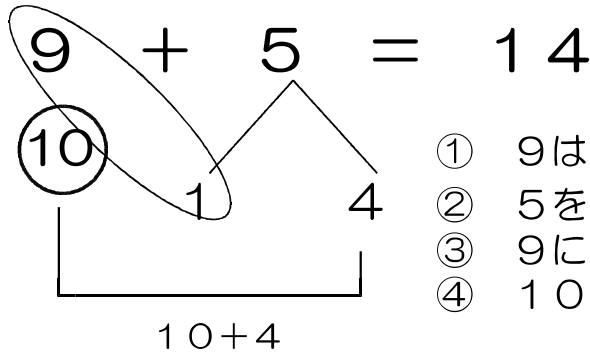
たしざん (くりあがりのある たしざん)

やってみようで 1

9 + 5



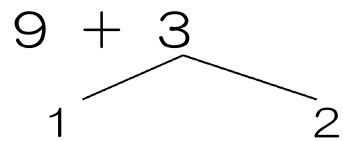
10のまとまりをつかってたすといいよ。



チャレンジ 1 □にあうかずをかこう。

(1) 9 + 3 の けいさんの しかた

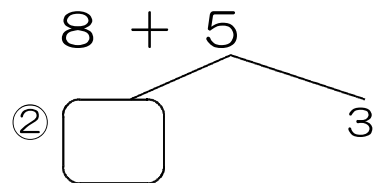
① 9に □ を たして 10。



② 10と □ で □ 。

(2) 8 + 5 の けいさんの しかた

① 8に □ を たして 10。

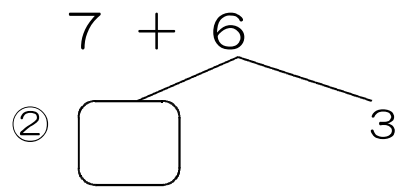


③ 10と □ で □ 。

(3) $7 + 6$ の けいさんの しかた

① 7に を たして 10。

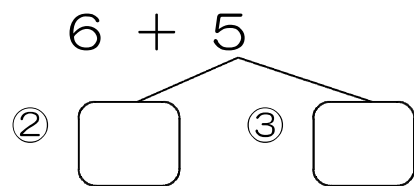
③ 10と で 。



(4) $6 + 5$ の けいさんの しかた

① 6に を たして 10。

④ 10と で 。



チャレンジ 2

① $9 + 2$ ② $7 + 5$ ③ $8 + 4$

④ $7 + 4$ ⑤ $9 + 6$ ⑥ $8 + 3$

⑦ $9 + 4$ ⑧ $6 + 6$ ⑨ $9 + 7$

⑩ $8 + 6$ ⑪ $7 + 7$ ⑫ $9 + 8$

パワフルチャレンジ1

① $8 + 7$

② $9 + 3$

③ $7 + 6$

④ $5 + 6$

⑤ $8 + 8$

⑥ $9 + 9$

⑦ $7 + 8$

⑧ $9 + 5$

⑨ $6 + 7$

⑩ $5 + 9$

⑪ $6 + 5$

⑫ $8 + 9$

⑬ $3 + 8$

⑭ $5 + 7$

⑮ $8 + 5$

⑯ $7 + 9$

⑰ $6 + 8$

⑱ $4 + 9$

⑲ $5 + 8$

⑳ $4 + 7$

㉑ $3 + 9$



ひきざん (くりさがりのある ひきざん)

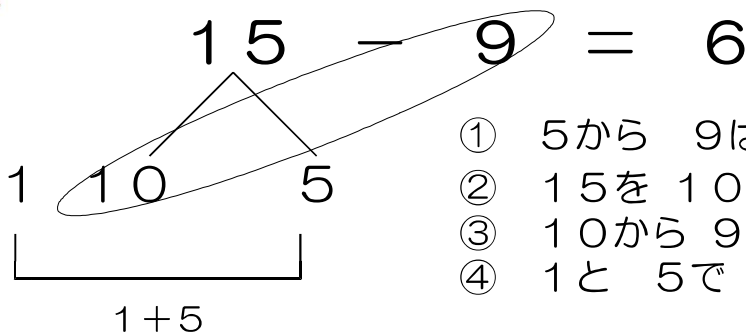
やってみようで 1

$$15 - 9$$

ヒント



さいしよに 10の まとまりから ひくと いいよ。

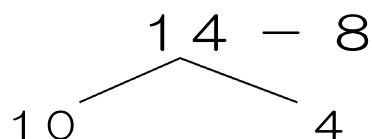


- ① 5から 9は ひけない。
- ② 15を 10と 5に わけます。
- ③ 10から 9を ひいて 1。
- ④ 1と 5で 6。

チャレンジ 1 □にあう かずを かこう。

(1) $14 - 8$ の けいさんの しかた

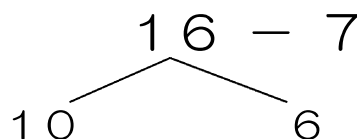
① 10から □ を ひいて 2。



② 2と □ で □。

(2) $16 - 7$ の けいさんの しかた

① 10から □ を ひいて □。

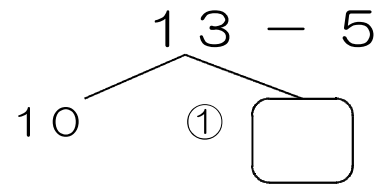


② □ と 6で □。

(3) $13 - 5$ の けいさんの しかた

② 10から を ひいて 5。

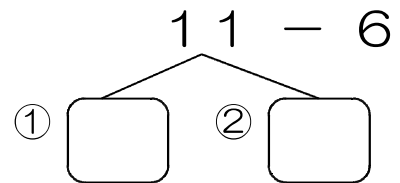
③ 5と で .



(4) $11 - 6$ の けいさんの しかた

③ 10から を ひいて .

④ と で .



チャレンジ 2

① $11 - 9$ ② $13 - 8$ ③ $12 - 9$

④ $14 - 7$ ⑤ $12 - 8$ ⑥ $11 - 5$

⑦ $12 - 7$ ⑧ $14 - 6$ ⑨ $11 - 8$

⑩ $15 - 6$ ⑪ $12 - 5$ ⑫ $13 - 9$

パワフルチャレンジ1

① $14 - 9$ ② $16 - 8$ ③ $11 - 4$

④ $13 - 7$ ⑤ $12 - 3$ ⑥ $15 - 7$

⑦ $17 - 9$ ⑧ $14 - 5$ ⑨ $11 - 2$

⑩ $13 - 4$ ⑪ $15 - 8$ ⑫ $18 - 9$

⑬ $12 - 6$ ⑭ $11 - 7$ ⑮ $17 - 8$

⑯ $11 - 3$ ⑰ $13 - 6$ ⑱ $16 - 9$

⑲ $13 - 5$ ⑳ $12 - 4$ ㉑ $11 - 6$



0のたしざんとひきざん

やってみようで 1 たしざんをしよう。

$$3 + 0$$



●で ずをかいて やってみると いいよ。

$$3 + 0 = 3$$

●●●

 と

--

 を あわせると?
こたえ 3

チャレンジ 1

① 1 + 0 ② 2 + 0 ③ 0 + 3

④ 6 + 0 ⑤ 0 + 0 ⑥ 7 + 0

⑦ 5 + 0 ⑧ 0 + 9 ⑨ 0 + 2

⑩ 0 + 8 ⑪ 0 + 4 ⑫ 9 + 0

⑬ 4 + 0 ⑭ 8 + 0 ⑮ 0 + 10

$$5 - 5$$

ヒント



●で ずをかいたり、おはじきや ぶろっくを
うごかしたりして やってみると いいよ。

$$5 - 5 = 0$$



このぶんの 5を へらすと?
こたえ 0

チャレンジ 2

- | | | |
|---------|---------|----------|
| ① 2 - 2 | ② 3 - 3 | ③ 1 - 1 |
| ④ 4 - 4 | ⑤ 8 - 8 | ⑥ 6 - 0 |
| ⑦ 7 - 0 | ⑧ 9 - 0 | ⑨ 10 - 0 |
| ⑩ 6 - 6 | ⑪ 5 - 0 | ⑫ 9 - 9 |
| ⑬ 8 - 0 | ⑭ 7 - 7 | ⑮ 3 - 0 |





大きいかず

やってみようで 1 □に あう かずを かんがえよう。

10が 3つと 1が 5つで

ヒント

10 10 10 5

こたえ 35

チャレンジ 1 □に あう かずを かこう。

① 10が 5つと 1が 4つで

② 10が 7つで

③ 48は 10が

つと 1が

つ

④ 80は 10が

つ