



いくつと いくつ

**やってみようで 1** 5は いくつと いくつですか。□に かずをかこう。

① 2と

② 1と

**ヒント**

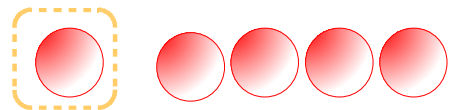
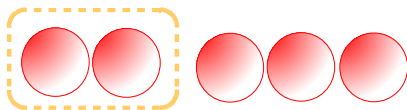
5は いくつと いくつですか。□に かずをかこう。



○などの  
ずをかい  
てわけて  
みよう

① 2と

② 1と



**ちやれんじ 1** いくつと いくつですか。□に かずをかこう。



① 2は いくつと いくつ かな。

1と  

② 3は いくつと いくつ かな。

⑦ 1と

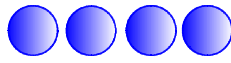
⑩ 3と



## ちやれんじ 2

いくつと いくつですか。 □に かずをかこう。

① 4は いくつと いくつかな。

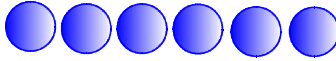


ア 1と

イ 2と

ウ 3と

② 6は いくつと いくつかな。

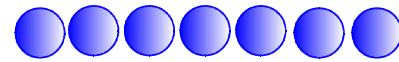


ア 2と

イ 3と

ウ 4と

③ 7は いくつと いくつかな。

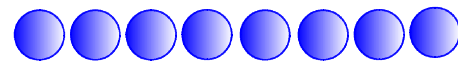


ア 1と

イ 2と

ウ 3と

④ 8は いくつと いくつかな。



ア 2と

イ 4と

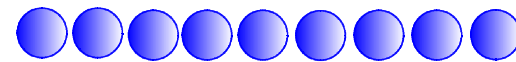
ウ 5と

エ 3と

オ 6と

カ 7と

⑤ 9は いくつと いくつかな。



ア 2と

イ 5と

ウ 9と

エ 7と

オ 3と

カ 6と

キ 1と

ク 8と

ケ 4と